

Имя, фамилия \_\_\_\_\_

Итоговая контрольная работа

Вариант 1

1. Вычисли.

$84 - 3 \cdot 7 + 37 =$

$32 - 18 : 2 + 38 =$

$74 - (29 + 16) : 9 =$

$9 \cdot 7 - (90 - 55) =$

2. Сравни.

$5 \text{ дм } 8 \text{ см} + 3 \text{ дм}$    $6 \text{ дм } 3 \text{ см} - 10 \text{ см}$

$18 \text{ дм} + 2 \text{ м } 6 \text{ дм}$    $22 \text{ м } 4 \text{ дм} + 20 \text{ дм}$


3. Реши уравнения и выполни проверку.

$a + 69 = 95$

$(14 + 15) - b = 20$


4. Сделай рисунок к задаче и реши её.

В саду 80 кустов. Из них 41 куст малины, 22 куста смородины, остальные — крыжовник. Сколько кустов крыжовника в саду?

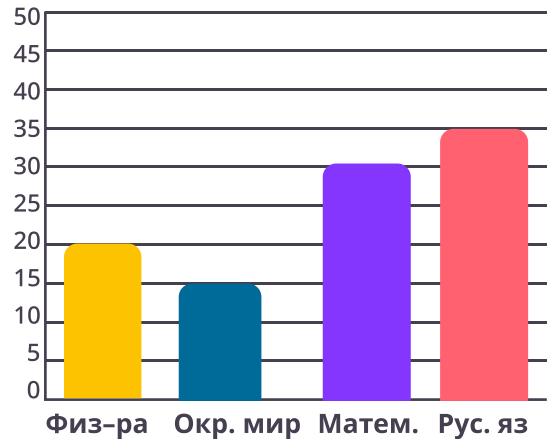


5. Построй фигуру и найди периметр.

Построй прямой угол из отрезков длиной 4 см и 3 см. Дострой угол до треугольника. С помощью линейки найди периметр получившегося треугольника.



6. Рассмотрите диаграмму. Запиши решение и ответ на вопросы.



а) По какому предмету больше всего отметок?

б) На сколько больше отметок по русскому языку, чем по окружающему миру?

в) Сколько всего стоит отметок по математике и физкультуре ?

7. Если Ваня съест 3 конфеты, то у него их станет на 5 меньше, чем у Юры. Сколько конфет у Вани, если у Юры 10 конфет? Ответ: \_\_\_\_\_